

# Esame di maturità scientifica, corso di ordinamento a. s. 2003-2004

## Problema 1

Sia  $f$  la funzione definita da:  $f(x)=2x-3x^3$

### Punto 1

Disegnate il grafico  $G$  di  $f(x)=2x-3x^3$ .

La funzione  $f(x)=2x-3x^3$  è una funzione polinomiale (una cubica).

*Dominio:*  $D_f \equiv \mathbb{R} \equiv ]-\infty; +\infty[$

*Simmetrie:* Poiché  $f(-x)=-f(x)$  la funzione è dispari e il suo grafico è simmetrico rispetto all'origine.

*Segno:* //////////////////////////////////////////////////////////////////

*Intersezione con gli assi:*  $A\left(-\sqrt{\frac{2}{3}};0\right)$  ,  $O(0;0)$  ,  $B\left(+\sqrt{\frac{2}{3}};0\right)$

*Limiti:* //////////////////////////////////////////////////////////////////

*Asintoti:* Il grafico della funzione non presenta asintoti.

*Derivata prima:*  $f'(x) = 2 - 9x^2$

$$f'(x) > 0 \Rightarrow 2 - 9x^2 > 0 \Rightarrow -\frac{\sqrt{2}}{3} < x < \frac{\sqrt{2}}{3}$$

////////////////////////////////////////////////////////////////

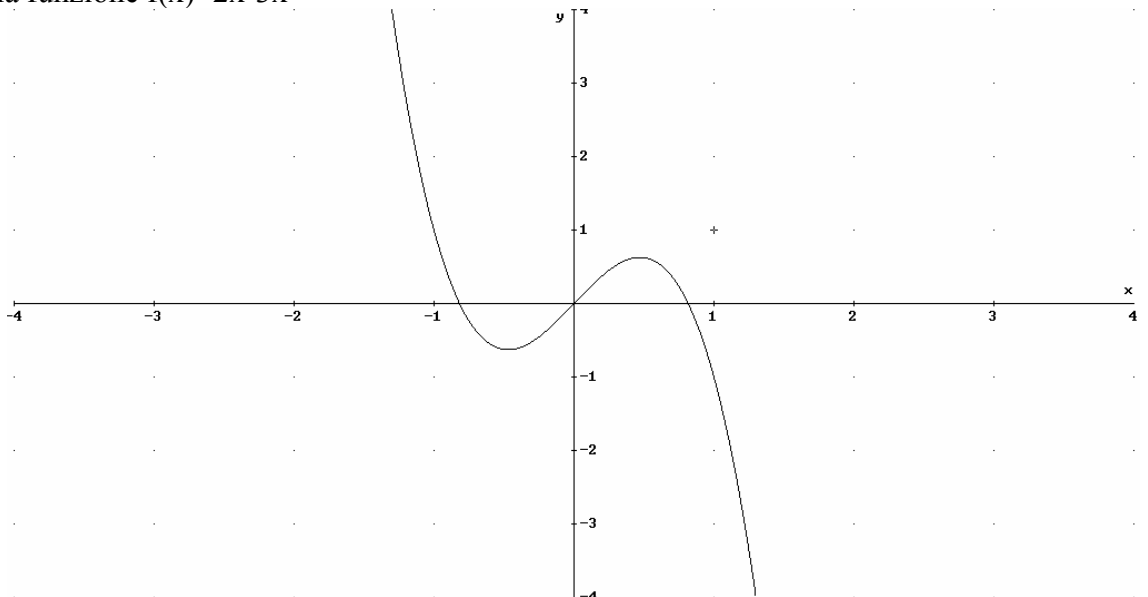
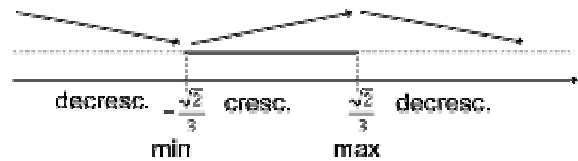
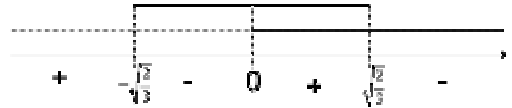
*Derivata seconda:*  $f''(x) = -18x$

$$f''(x) > 0 \Rightarrow x < 0$$

////////////////////////////////////////////////////////////////

Flesso(0;0)

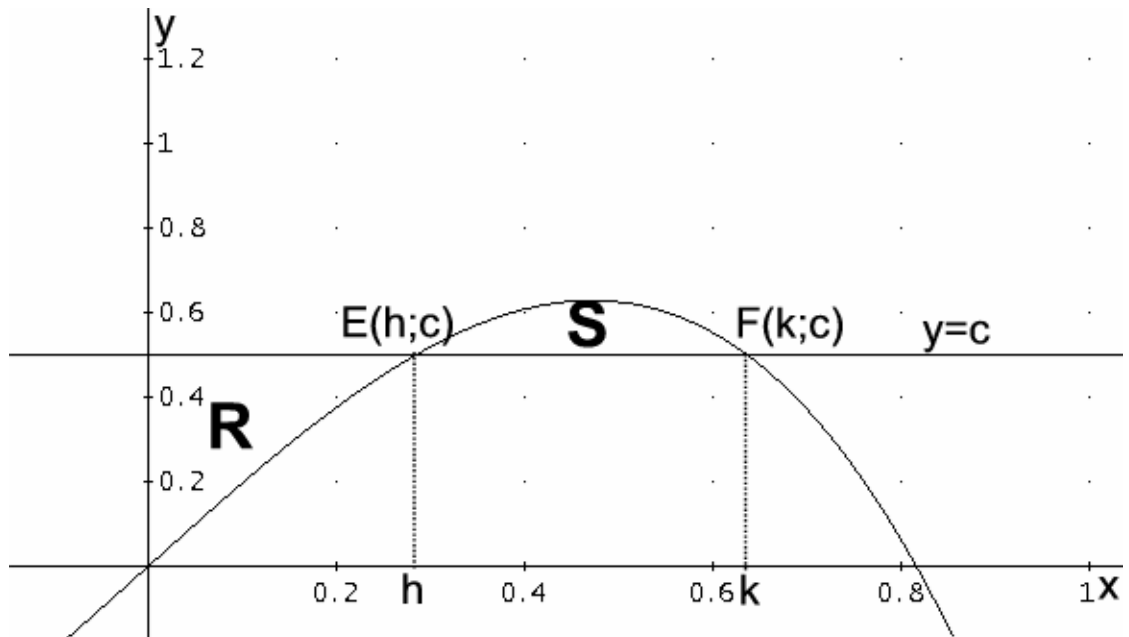
Grafico  $G$  della funzione  $f(x)=2x-3x^3$



**Punto 2**

Nel primo quadrante degli assi cartesiani, considerate la retta  $y=c$  che interseca  $G$  in due punti distinti e le regioni finite di piano  $R$  e  $S$  che essa delimita con  $G$ . Precisamente:  $R$  delimitata dall'asse  $y$ , da  $G$  e dalla retta  $y=c$  e  $S$  delimitata da  $G$  e dalla retta  $y=c$ .

La retta  $y=c$ , interseca il grafico della funzione in due punti  $E(h;c)$ ,  $F(k;c)$  del primo quadrante se  $c \in \left]0; \frac{4\sqrt{2}}{9}\right[$ . Gli estremi dell'intervallo sono stati esclusi perché per  $y=0$  si annulla la superficie  $R$  e per  $y = \frac{4\sqrt{2}}{9}$  si annulla la superficie  $S$ .



**Punto 3**

Determinate  $c$  in modo che  $R$  e  $S$  siano equivalenti e determinate le corrispondenti ascisse dei punti di intersezione di  $G$  con la retta  $y=c$ .

Indicate con  $E$  ed  $F$  le intersezioni di  $G$  con la retta  $y=c$ ,

l'area della regione di piano  $R$  è data da: 
$$\int_0^h [c - f(x)] dx = \int_0^h [c - 2x + 3x^3] dx$$

l'area della regione di piano  $S$  è data da: 
$$\int_h^k [f(x) - c] dx = \int_h^k [2x - 3x^3 - c] dx$$

Uguagliando le due aree si ha: 
$$\int_0^h [c - 2x + 3x^3] dx = \int_h^k [2x - 3x^3 - c] dx$$

////////////////////////////////////

da cui

$$-2k + 3c = 0 \Rightarrow k = \frac{3}{2}c$$

////////////////////////////////////

$$F\left(\frac{2}{3}; \frac{4}{9}\right).$$

Il punto E si ottiene risolvendo il sistema  $\begin{cases} y = 2x - 3x^3 \\ y = \frac{4}{9} \end{cases} \Rightarrow \begin{cases} 3x^3 - 2x + \frac{4}{9} = 0 \\ y = \frac{4}{9} \end{cases}$

////////////////////////////////////

Il punto E ha coordinate  $E\left(\frac{-1+\sqrt{3}}{3}; \frac{2}{3}\right)$

**Punto 4**

**Determinate la funzione g il cui grafico è simmetrico di G rispetto alla retta  $y=4/9$ .**

Le equazioni della simmetria assiale avente come asse la retta  $y=4/9$  sono:

////////////////////////////////////

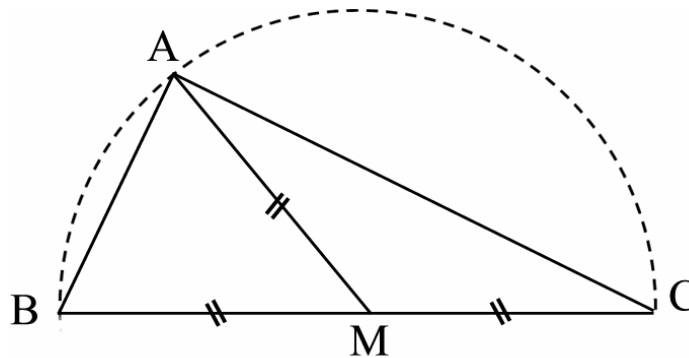
la funzione cercata è quindi  $g(x) = 3x^3 - 2x + \frac{8}{9}$ .

**Problema 2**

*ABC* è un triangolo rettangolo di ipotenusa *BC*.

**Punto 1**

Dimostrate che la mediana relativa a *BC* è congruente alla metà di *BC*.



Il triangolo rettangolo è inscrivibile nella semicirconferenza di diametro *BC*; la mediana *AM* è uguale al raggio della circonferenza, pertanto  $AM \cong BM$ .

**Punto 2**

Esprimete le misure dei cateti di *ABC* in funzione delle misure, supposte assegnate, dell'ipotenusa e dell'altezza ad essa relativa.

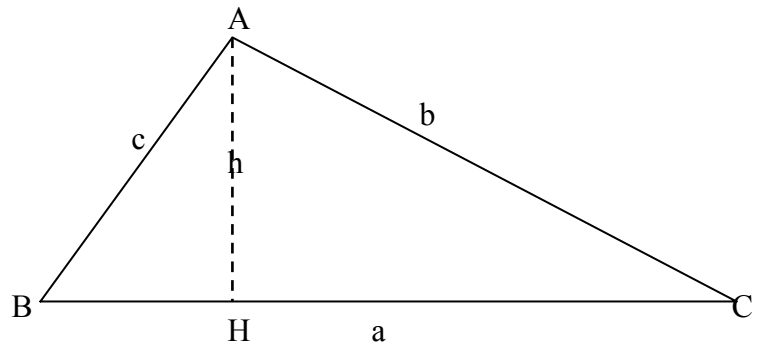
Siano:

*a* la misura dell'ipotenusa *BC*

*b* la misura del cateto *AC*

*c* la misura del cateto *AB*

*h* la misura dell'altezza *AH* relativa all'ipotenusa



$$\left. \begin{aligned} Area &= \frac{b \cdot c}{2} \\ Area &= \frac{a \cdot h}{2} \end{aligned} \right\} \Rightarrow b \cdot c = a \cdot h$$

Dalle due equazioni trovate si ottiene il sistema simmetrico nelle incognite *b*, *c* che si può risolvere nel seguente modo:

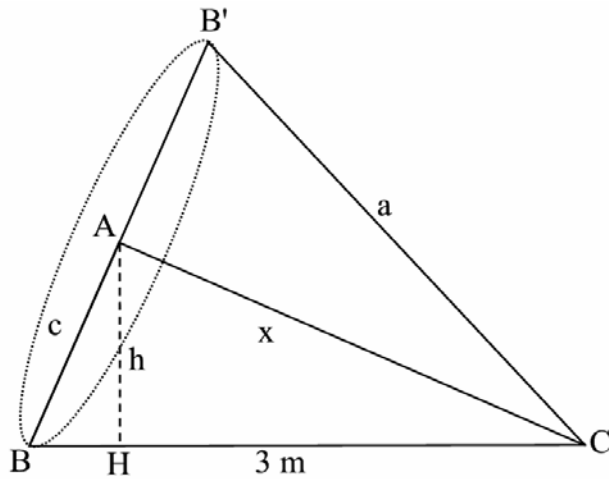


scartando le soluzioni negative si ottiene:

$$\begin{cases} b = \frac{\sqrt{a^2 + 2ah} - \sqrt{a^2 - 2ah}}{2} \\ c = \frac{\sqrt{a^2 + 2ah} + \sqrt{a^2 - 2ah}}{2} \end{cases}$$

**Punto 3**

Con  $BC = \sqrt{3}$  metri, determinate il cono *K* di volume massimo che si può ottenere dalla rotazione completa del triangolo attorno ad uno dei suoi cateti e la capacità in litri di *K*.



Posto  $\overline{AC} = x$  si ha  $\overline{AB}^2 = \overline{BC}^2 - \overline{AC}^2 \rightarrow \overline{AB}^2 = 3 - x^2$

Il volume del cono è dato da:  $V = \frac{\pi}{3} \overline{AB}^2 \cdot \overline{AC} = \frac{\pi}{3} (3 - x^2) \cdot x = \frac{\pi}{3} (3x - x^3)$



Il volume massimo del cono si ha per  $x=1$

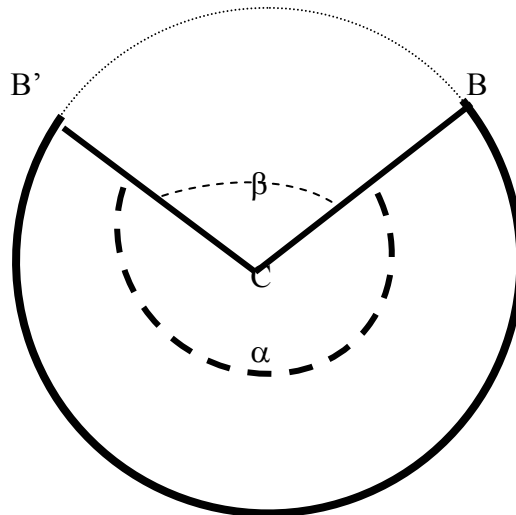
$$V(1) = \frac{2\pi}{3} m^3$$

Per esprimere il volume in litri si tiene conto che  $1m^3 = (10dm)^3 = 1000dm^3 = 1000litri$

la capacità è:  $\frac{2000\pi}{3} litri \approx 2094,4 litri$

#### **Punto 4**

**Determinate la misura approssimata, in radianti ed in gradi sessagesimali, dell'angolo del settore circolare che risulta dallo sviluppo piano della superficie laterale del cono  $K$ .**



Lo sviluppo piano della superficie laterale del cono  $K$  determina il settore circolare di raggio  $BC = \sqrt{3}$  rappresentato in figura. La lunghezza dell'arco  $\widehat{BB'}$  è  $2\sqrt{2}\pi$  ;

la misura in radianti dell'angolo  $\alpha$  è  $\alpha = \frac{2\sqrt{2}}{\sqrt{3}} \pi \cong 5,13 rad$

la misura in radianti dell'angolo  $\alpha$  è  $\alpha^\circ = \frac{2\sqrt{2}}{\sqrt{3}} 180^\circ \cong (293,94)^\circ$

## Questionario

### Quesito 1

Trovate due numeri reali  $a$  e  $b$ ,  $a \neq b$ , che hanno somma e prodotto uguali.

Indicando con  $s$  la somma e con  $p$  il prodotto dei due numeri reali  $a, b$  con  $a \neq b$  si ottiene il seguente sistema:

$$\begin{cases} a+b=s \\ a \cdot b=p \end{cases} \xrightarrow{s=p} \begin{cases} a+b=s \\ a \cdot b=s \end{cases}$$

////////////////////////////////////

affinché le soluzioni dell'equazione siano reali e distinte si deve avere:

$$s^2 - 4s > 0 \Rightarrow 0 < s \quad \vee \quad s > 4$$

////////////////////////////////////

Quindi per qualsiasi valore  $s$  che soddisfi la condizione:  $0 < s$  ;  $s > 4$

si può trovare una coppia di numeri reali  $a$  e  $b$ ,  $a \neq b$ , che hanno somma e prodotto uguali.

////////////////////////////////////

### Quesito 2

Provate che la superficie totale di un cilindro equilatero sta alla superficie della sfera ad esso circoscritta come 3 sta a 4.

Indicato con:

$S_c$  la superficie totale del cilindro

$S$  la superficie della sfera

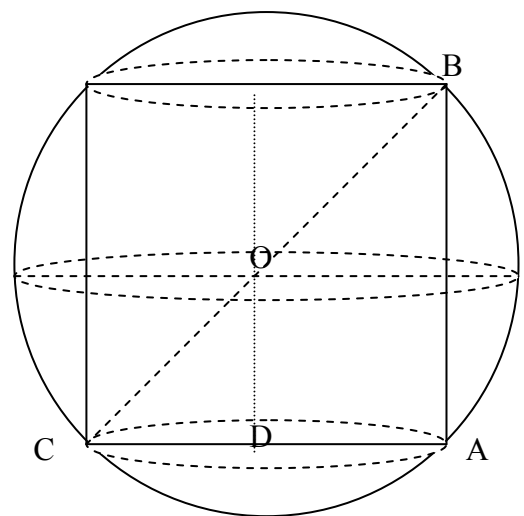
$R$  (OB) il raggio della sfera circoscritta

$r$  (DA) il raggio del cerchio di base del cilindro

$h$ (AB) l'altezza del cilindro.

////////////////////////////////////

$$\text{quindi: } \frac{S_c}{S} = \frac{6\pi r^2}{8\pi r^2} = \frac{3}{4}$$



### Quesito 3

Date un esempio di funzione  $f(x)$  con un massimo relativo in  $(1, 3)$  e un minimo relativo in  $(-1, 2)$ .

La condizione di appartenenza al grafico della funzione del punto di massimo e del punto minimo sono:  $f(1)=3$ ;  $f(-1)=2$ .

La condizione necessaria affinché il grafico di una funzione presenti un punto stazionario è che la derivata prima sia eguale a zero, cioè:  $f'(1)=0$ ;  $f'(-1)=0$ .

Quindi ci sono quattro condizioni per poter trovare l'espressione della funzione. Supponendo che la funzione sia un polinomio di terzo grado (cubica)  $y = ax^3 + bx^2 + cx + d$

basterà imporre le quattro condizioni suddette per trovare i quattro parametri  $(a, b, c, d)$ , tenendo conto che:  $y' = 3ax^2 + 2bx + c$

$$\begin{cases} f(+1) = 3 \Rightarrow +a + b + c + d = 3 \\ f(-1) = 2 \Rightarrow -a + b - c + d = 2 \\ f'(+1) = 0 \Rightarrow 3a + 2b + c = 0 \\ f'(-1) = 0 \Rightarrow 3a - 2b + c = 0 \end{cases}$$

risolvendo il sistema trovato si ottiene:

////////////////////////////////////

**Quesito 4**

**Dimostrate che l'equazione  $e^x + 3x = 0$  ammette una e una sola soluzione reale.**

La funzione  $y = e^x + 3x$  è definita e continua su tutto l'asse reale, pertanto è continua anche  $\forall x \in X \equiv [-1; 0]$  e risulta  $f(-1) = e^{-1} + 3(-1) = \frac{1-3}{e} < 0$  ;  $f(0) = e^0 + 3(0) = 1 > 0$ , per il teorema degli zeri la funzione  $f(x)$  si annullerà almeno una volta nell'intervallo  $X_1 \equiv ]-1; 0[$ . Essendo inoltre derivabile  $\forall x \in X_1 \equiv ]-1; 0[$  e  $y' = e^x + 3 > 0, \forall x \in \mathbb{R}$  la funzione è strettamente crescente e quindi si annullerà solo una volta. Concludendo la soluzione dell'equazione data è unica e appartiene all'intervallo  $X_1 \equiv ]-1; 0[$ .

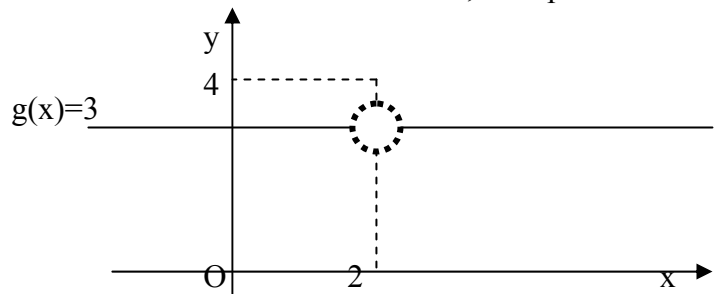
**Quesito 5**

**Di una funzione  $g(x)$  non costante si sa che:  $\lim_{x \rightarrow 2} g(x) = 3$  e  $g(2) = 4$ .**

**Trovate una espressione di  $g(x)$ .**

Dalle condizioni date risulta che la funzione  $g(x)$  ha un punto di discontinuità di terza specie.

Esistono infinite funzioni non costanti che soddisfano le condizioni date, esempi sono le seguenti funzioni:



////////////////////////////////////

**Quesito 6**

**Verificate che le due funzioni  $f(x) = 3 \cdot \log x$  e  $g(x) = \log (2x)^3$  hanno la stessa derivata. Quale giustificazione ne date?**

Le due funzioni  $f(x) = 3 \cdot \log x$  e  $g(x) = \log (2x)^3$  continue e derivabili in tutto il loro dominio  $D \equiv ]0; +\infty[$ , hanno la stessa derivata prima infatti:

$$f'(x) = \frac{3}{x} \quad e \quad g'(x) = \frac{1}{(2x)^3} \cdot 3 \cdot (2x)^2 \cdot 2 = \frac{3}{x}$$

Ciò è dovuto alle proprietà dei logaritmi:

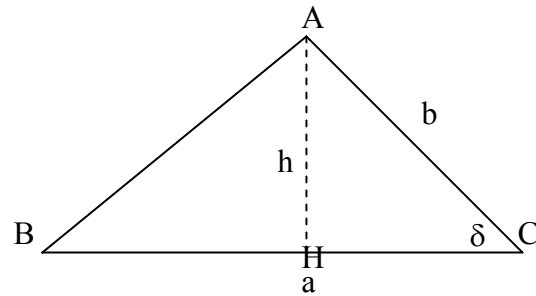
////////////////////////////////////

**Quesito 7**

Un triangolo ha due lati e l'angolo da essi compreso che misurano rispettivamente a, b e δ. Qual è il valore di δ che massimizza l'area del triangolo ?

Ponendo:

- BC = a
- AC = b
- AH = h



considerando il triangolo rettangolo AHC, si ha :  $h = b \sin \delta$

e quindi l'area del triangolo ABC, in funzione dell'angolo δ, è data da:

////////////////////////////////////

Il valore massimo del seno di un angolo si ha per  $\delta=90^\circ$ , infatti  $\sin 90^\circ=1$ . Per questo valore l'area è  $S = \frac{1}{2} \cdot a \cdot b$  e il triangolo è un triangolo rettangolo.

////////////////////////////////////

**Quesito 8**

La misura degli angoli viene fatta adottando una opportuna unità di misura. Le più comuni sono i gradi sessagesimali, i radianti, i gradi centesimali. Quali ne sono le definizioni?

////////////////////////////////////

**Quesito 9**

Calcolate  $\int_0^1 \arcsen x \, dx$ .

Si può calcolare l'integrale proposto direttamente applicando il metodo di integrazione per parti nel seguente modo:

$$x = \sin t \rightarrow dx = \cos t \cdot dt$$

$$t = \arcsen x$$

$$x = 0 \rightarrow t = 0$$

$$x = 1 \rightarrow t = \frac{\pi}{2}$$

si ha

$$\int_0^1 \arcsen x \, dx = \int_0^{\frac{\pi}{2}} t \cdot \cos t \cdot dt \xrightarrow{\text{integrando per parti}} \int_0^{\frac{\pi}{2}} t \cdot \cos t \cdot dt = [t \cdot \sin t]_0^{\frac{\pi}{2}} - \int_0^{\frac{\pi}{2}} \sin t \cdot dt = [t \cdot \sin t + \cos t]_0^{\frac{\pi}{2}} = \frac{\pi}{2} - 1$$

**Quesito 10**

Considerate gli insiemi  $A = \{1, 2, 3, 4\}$  e  $B = \{a, b, c\}$ ; quante sono le applicazioni (le funzioni) di A in B?

////////////////////////////////////